



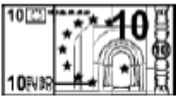



























Mathématiques : Fiche d'exercice 14

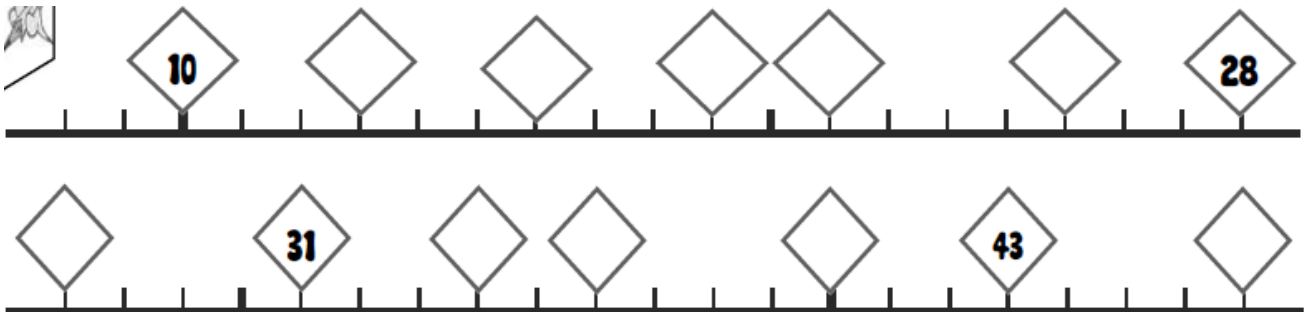
Calcul mental : Décomposition en dizaines et unités : 24 / 32 / 16 / 40 / 10 / 36

Demander le nombre de dizaines et le nombre d'unités. Changer les nombres pour jeu 7.

Exercice 1 : Colorie ce dont tu as besoin pour acheter les objets

 13	 18	 21	 34 €
      	      	     	     

Exercice 2 : Complète les étiquettes avec le nombre qui convient



Exercice 3 : Calcule ces additions

$30 + 6 = \underline{\quad}$

$2 + 30 = \underline{\quad}$

$10 + 8 = \underline{\quad}$

$20 + 5 = \underline{\quad}$

$7 + 20 = \underline{\quad}$

$20 + \underline{\quad} = 23$

$30 + 4 = \underline{\quad}$

$30 + 8 = \underline{\quad}$

$10 + \underline{\quad} = 12$

Exercice 4 : Résolution de problèmes. N'oublie pas de marquer dans l'encadré l'opération que tu vas devoir calculer pour résoudre le problème.

Jibril a un paquet de 9 images.
Il doit mettre 3 images dans chaque enveloppe.

♥ Combien d'enveloppes lui faut-il ?

♦

♣ Il lui faut enveloppes