

Maths Période 3





La suite des nombres jusqu'à 10

11


1 Ecris les nombres du plus petit au plus grand.




1 2 3 4

6 8 4 1 | 5 2 9 7

  |  





2 Colle les vêtements au bon endroit.

colle 

3 Ecris le nombre de doigts.

1 2 3 4

4 Je m'entraîne à écrire.

1 2 3 4

10 - - - - -

