


Maths Période 3

plus que / moins que / autant

1

Tous les chiens ont-ils une niche ?



oui



non




Maths Période 3


plus que / moins que / autant

1

Chaque fleur a-t-elle un pot ?



oui



non




Maths Période 3


plus que / moins que / autant

1

Y-a-t-il assez de fourchettes?



oui



non

